

P1 - MODELOS MATEMÁTICOS PARA A CIDADANIA

Matemática Cursos Profissionais

Coletânea de tarefas das turmas piloto

2023/2024



Ficha técnica

Título:

Coletânea de tarefas das turmas piloto - Modelos matemáticos para a cidadania (Matemática Cursos Profissionais)

Autoria e adaptação:

Professores das turmas piloto de Matemática Cursos Profissionais

Revisão:

Grupo de Trabalho de Desenvolvimento Curricular e Profissional de Matemática do Ensino Secundário

Imagem da capa:

Adaptada de imagem de utilização livre para fins não comerciais, disponível em <https://www.pexels.com/pt-br/foto/foto-de-pessoas-olhando-no-laptop-3182750/>

Data:

Lisboa, abril de 2024



Nota de apresentação

A Direção-Geral da Educação (DGE) tem vindo a conceber e a concretizar um conjunto de atividades destinadas a apoiar a generalização dos programas (Aprendizagens Essenciais) de Matemática para os 10.º, 11.º e 12.º anos de escolaridade, designadamente nas disciplinas de Matemática A, Matemática B (Matemática Aplicada às Artes Visuais) e nos módulos de Matemática dos Cursos Profissionais.

É essencialmente no âmbito do **Grupo de Trabalho (GT) do Desenvolvimento Curricular e Profissional em Matemática para o Ensino Secundário (DCPMES)** que tais atividades têm sido apresentadas, pensadas, discutidas e planeadas. Integram este GT os docentes e investigadores Jaime Carvalho e Silva (Coordenador), Alexandra Rodrigues, Ana Breda, António Cardoso, António Domingos, Carlos Albuquerque, Cristina Cruchinho, Cristina Negra, Emanuel Martinho, Helder Manuel Martins, Hélia Jacinto, João Almiro, Luís Gabriel, Maria Eugénia Graça Martins, Maria Manuel Torres, Maria Teresa Santos, Nélia Amado, Nélida Filipe, Paulo Correia, Pedro Freitas, Pedro Macias Marques, Raúl Gonçalves, Rui Gonçalo Espadeiro e Susana Carreira.

As Coletâneas de Tarefas destinam-se a apoiar a implementação dos programas de Matemática já referidos. São materiais que foram na sua grande maioria testados em turmas piloto que se iniciaram no ano letivo de 2023/2024 e são acompanhados de alguns dos comentários motivados pela sua aplicação em sala de aula. Contudo, não substituem outros elementos de estudo e de consulta, mas constituem certamente referências de qualidade que, com certeza, ajudarão os professores de Matemática a aprofundar os seus conhecimentos sobre a natureza e as finalidades dos programas, sobre questões matemáticas, pedagógicas e didáticas ou sobre a conceção e o desenvolvimento de projetos. Neste sentido, são materiais que, passados pela prova essencial da realidade da sala de aula, podem apoiar os professores na seleção e na planificação de tarefas que mais facilmente concretizem as ideias inovadoras do currículo e envolvam os alunos em atividades matemáticas relevantes, empreendendo uma formação matemática abrangente e inovadora.

A aprendizagem de conceitos estruturantes e de competências essenciais dos alunos no âmbito da cidadania, implica disponibilizar aos alunos um conjunto variado de ferramentas matemáticas. Assim, aposta-se na diversificação de temas matemáticos, e das abordagens a cada tema, valorizando competências algébricas em paralelo com métodos numéricos e o raciocínio dedutivo a par do recurso à tecnologia. Estas Coletâneas de Tarefas pretendem oferecer exemplos muito concretos de forma a contribuir para esse objetivo.

Os professores das Turmas Piloto e os restantes elementos do GT DCPMES são professores, formadores e investigadores com percursos académicos e profissionais diversificados e significativos. Estas Coletâneas de Tarefas foram aplicadas num conjunto de turmas em escolas de Portugal Continental que aceitaram integrar a antecipação da aplicação das novas Aprendizagens Essenciais, com a preocupação

de encontrar uma grande diversidade regional, com escolas localizadas em grandes centros urbanos e localizadas no interior, com turmas grandes e turmas pequenas, com alunos com condições socioeconómicas muito diferentes, dando garantia de uma melhor adequação aos alunos das escolas de hoje.

A testagem das tarefas agora publicadas é uma característica essencial do trabalho presente ao permitir uma reflexão sobre a aplicação prática das tarefas em salas de aula reais e um posterior refinamento dessas mesmas tarefas. Além do mais irão permitir, mais facilmente, uma aplicação a diferentes ambientes escolares e adaptações em diferentes direções, atendendo aos detalhes que emergiram da sua aplicação concreta. Os professores das turmas piloto e respetivas escolas/agrupamentos de escolas em 2023/2024 foram:

Alexandra Ferrão (Agrupamento de Escolas Poeta António Aleixo), Ana Catarina Lopes (Escola Secundária Cacilhas Tejo), Ana Cristina Gomes (Agrupamento de Escolas Soares Basto), Cristina Cruchinho (Escola Secundária Filipa de Vilhena), Cristina Fernandes (Agrupamento de Escolas de Sampaio), Elisabete Sousa (Agrupamento de Escolas de Trancoso), Elisabete Sousa Almeida (Agrupamento de Escolas de Sátão), Elsa Gomes (Escola Secundária de Paços de Ferreira), Eunice Tavares Pita (Agrupamento de Escolas Gabriel Pereira), Helder Manuel Martins (Escola Secundária António Damásio), Joaquim Rosa (Escola Secundária Luís de Freitas Branco), Maria Teresa Santos (Escola Profissional de Agricultura e Desenvolvimento Rural de Vagos), Marília Rosário (Escola Secundária de Tomaz Pelayo), Marisabel Antunes (Escola Secundária D. Dinis, Coimbra), Nélida Filipe (Agrupamento de Escolas Dra. Laura Ayres), Paula Teixeira (Escola Secundária João de Barros), Paulo Correia (Agrupamento de Escolas de Alcácer do Sal), Raul Aparício Gonçalves (Agrupamento de Escolas de Ermesinde), Rui Gonçalo Espadeiro (Agrupamento de Escolas de Redondo), Sandra Afonso (Escola Secundária José Saramago), Sara Faria Monteiro (Escola Secundária Pedro Nunes), Verónica Lopes (Agrupamento de Escolas Poeta António Aleixo).

A DGE tem vindo a desenvolver um processo de apoio sistemático e persistente aos professores de Matemática que iniciam em 2024/2025 a generalização dos novos programas de Matemática do Ensino Secundário, e que inclui, entre outras iniciativas: a dinamização de Turmas Piloto em mais de uma vintena de escolas; a edição de várias Coletâneas de Tarefas e outras brochuras; a formação de professores formadores que determina uma rede nacional de professores que, localmente, apoiam os seus colegas e desenvolvem ações de formação para todas as escolas; uma base de dados de tarefas novas ou já anteriormente publicadas e adequadas aos novos programas; e um conjunto de seminários a distância (*webinars*) dedicados a temas relevantes suscitados pelos novos programas.

Os desafios dos tempos modernos são significativos e por isso é fundamental que o currículo na escolaridade obrigatória dê resposta a todos os alunos, tendo em vista a sua formação matemática enquanto cidadãos, proporcionando-lhes uma experiência rica, adequada ao seu nível etário e ao alcance de todos, tendo o cuidado dos formalismos e dos níveis de abstração serem adequados ao trabalho a desenvolver em cada tema. A matemática deve ser um importante contributo para a resolução de problemas, possibilitando que os alunos mobilizem e desenvolvam o

seu raciocínio com vista à tomada de decisões e à construção e uso de estratégias adequadas a cada contexto.

Finalmente, esperamos que as professoras e os professores de Matemática do ensino Secundário, bem como toda a comunidade, possam reconhecer utilidade nos materiais agora disponibilizados, quer no âmbito da planificação das suas atividades de ensino quer ainda como referências e instrumentos de reflexão, de autoformação e de desenvolvimento profissional. A DGE e o GT DCPMES, como lhes compete, não deixarão de continuar a desenvolver esforços para apoiar e melhorar o desenvolvimento curricular na disciplina de Matemática. Para tal, continuamos a contar com os professores e com o seu profissionalismo empenhado, informado e consciente, elemento essencial e decisivo no processo de efetiva melhoria do ensino e da aprendizagem da Matemática.

Pelo GT DCPMES

Jaime Carvalho e Silva
Coordenador

MÓDULO P1 - MODELOS MATEMÁTICOS PARA A CIDADANIA

Aulas (horas)	Nome da Tarefa	Tópicos/ Subtópicos	Objetivos de Aprendizagem	Tipo de trabalho	Ideias chave das AE	Áreas de Competência do PASEO
1,5	Tarefa 1 Eleições Presidenciais na Turquia	Modelos Matemáticos em Eleições Maioria simples ou relativa e maioria absoluta	<ul style="list-style-type: none"> • Reconhecer o papel da matemática na escolha de representantes em sistemas políticos e sociais. • Perceber que são modelos matemáticos que permitem criar procedimentos para transformar as preferências individuais numa decisão coletiva. • Identificar o vencedor de um processo eleitoral através de maioria simples e maioria absoluta. 	Trabalho a pares, com discussão final em turma	<ul style="list-style-type: none"> • Resolução de problemas, modelação e conexões • Comunicação matemática 	<ul style="list-style-type: none"> • Usa critérios para apreciar ideias, processos ou produtos, construindo argumentos para a fundamentação das tomadas de posição (D) • Trabalha em equipa e aprende a considerar diversas perspetivas e a construir consensos (E) • Trabalha com recurso a materiais, instrumentos, ferramentas, máquinas e equipamentos tecnológicos, relacionando conhecimentos técnicos e científicos (I)
1,5	Tarefa 2 Eleições na Escola Secundária Vale das Amendoeiras: Método de Borda	Modelos Matemáticos em Eleições Método de Borda Comparação entre métodos eleitorais	<ul style="list-style-type: none"> • Identificar o vencedor de processos eleitorais que recorram a boletins de preferência (método de Borda). 	Trabalho a pares, com discussão final em turma	<ul style="list-style-type: none"> • Resolução de problemas, modelação e conexões • Comunicação matemática 	<ul style="list-style-type: none"> • Usa critérios para apreciar ideias, processos ou produtos, construindo argumentos para a fundamentação das tomadas de posição (D) • Trabalha em equipa e aprende a considerar diversas perspetivas e a construir consensos (E) • É confiante, resiliente e persistente, construindo caminho personalizado de aprendizagem de médio e longo prazo, com base nas suas vivências (F) • Trabalha com recurso a materiais, instrumentos, ferramentas, máquinas e equipamentos tecnológicos, relacionando conhecimentos técnicos e científicos (I)

<p>4,5</p>	<p>Tarefa 3 Eleições Autárquicas: Hondt e Sainte-Laguë</p>	<p>Modelos Matemáticos na Partilha</p> <p>Método de Hondt Método de Sainte-Laguë</p>	<ul style="list-style-type: none"> • Perceber que são modelos matemáticos que permitem criar procedimentos para fazer distribuições proporcionais. • Conhecer e aplicar o método de Hondt e o método de St. Laguë. • Identificar vantagens e limitações dos métodos de Hondt e St. Laguë. 	<p>Trabalho a pares e de grupo, com discussão final em turma</p>	<ul style="list-style-type: none"> • Resolução de problemas, modelação e conexões • Recurso sistemático à tecnologia 	<ul style="list-style-type: none"> • Usa critérios para apreciar ideias, processos ou produtos, construindo argumentos para a fundamentação das tomadas de posição (D) • Trabalha em equipa e aprende a considerar diversas perspetivas e a construir consensos (E) • É confiante, resiliente e persistente, construindo caminho personalizado de aprendizagem de médio e longo prazo, com base nas suas vivências (F) • Trabalha com recurso a materiais, instrumentos, ferramentas, máquinas e equipamentos tecnológicos, relacionando conhecimentos técnicos e científicos (I)
<p>3</p>	<p>Tarefa 4 O salário de uma hora de trabalho</p>	<p>Modelos Matemáticos nas finanças</p> <p>Matemática nos salários</p>	<ul style="list-style-type: none"> • Calcular o valor dos salários mensal, anual e por hora, dadas as condições de um contrato. • Reconhecer a diferença entre salário bruto e salário líquido. • Calcular contribuições obrigatórias para sistemas de segurança social. • Calcular retenção na fonte para IRS. 	<p>Trabalho a pares, com discussão final em turma</p>	<ul style="list-style-type: none"> • Resolução de problemas, modelação e conexões • Organização do trabalho dos alunos • Comunicação matemática 	<ul style="list-style-type: none"> • Usa critérios para apreciar ideias, processos ou produtos, construindo argumentos para a fundamentação das tomadas de posição (D) • Trabalha em equipa e aprende a considerar diversas perspetivas e a construir consensos (E) • É confiante, resiliente e persistente, construindo caminho personalizado de aprendizagem de médio e longo prazo, com base nas suas vivências (F) • Trabalha com recurso a materiais, instrumentos, ferramentas, máquinas e equipamentos tecnológicos, relacionando conhecimentos técnicos e científicos (I)

3	<p>Tarefa 5 O IRS e a retenção na fonte</p>	<p>Modelos Matemáticos nas finanças</p> <p>Matemática nos salários (IRS)</p>	<ul style="list-style-type: none"> • Calcular retenção na fonte para IRS. • Calcular o IRS anual em casos simples em função do rendimento coletável. • Compreender o caráter provisório da taxa mensal de retenção na fonte (IRS). • Identificar a progressividade do IRS e a relevância dos escalões. 	Trabalho de grupo	<ul style="list-style-type: none"> • Resolução de problemas, modelação e conexões • Organização do trabalho dos alunos • Comunicação matemática 	<ul style="list-style-type: none"> • Usa critérios para apreciar ideias, processos ou produtos, construindo argumentos para a fundamentação das tomadas de posição (D) • Trabalha em equipa e aprende a considerar diversas perspetivas e a construir consensos (E) • É confiante, resiliente e persistente, construindo caminho personalizado de aprendizagem de médio e longo prazo, com base nas suas vivências (F) • Trabalha com recurso a materiais, instrumentos, ferramentas, máquinas e equipamentos tecnológicos, relacionando conhecimentos técnicos e científicos (I)
2	<p>Tarefa 6 Emprestar ou não emprestar: Juros simples</p>	<p>Modelos Matemáticos nas finanças</p> <p>Matemática na poupança e no crédito - juros simples</p>	<ul style="list-style-type: none"> • Calcular juros simples 	Trabalho a pares, com discussão final em turma	<ul style="list-style-type: none"> • Resolução de problemas, modelação e conexões • Recurso sistemático à tecnologia 	<ul style="list-style-type: none"> • É confiante, resiliente e persistente, construindo caminho personalizado de aprendizagem de médio e longo prazo, com base nas suas vivências (F) • Trabalha com recurso a materiais, instrumentos, ferramentas, máquinas e equipamentos tecnológicos, relacionando conhecimentos técnicos e científicos (I)
2	<p>Tarefa 7 Crédito: juros e mais juros</p>	<p>Modelos Matemáticos nas finanças</p> <p>Matemática na poupança e no crédito - juros compostos</p>	<ul style="list-style-type: none"> • Calcular juros compostos 	Trabalho a pares, com discussão final em turma	<ul style="list-style-type: none"> • Resolução de problemas, modelação e conexões • Recurso sistemático à tecnologia 	<ul style="list-style-type: none"> • É confiante, resiliente e persistente, construindo caminho personalizado de aprendizagem de médio e longo prazo, com base nas suas vivências (F) • Trabalha com recurso a materiais, instrumentos, ferramentas, máquinas e equipamentos tecnológicos, relacionando conhecimentos técnicos e científicos (I)

2	<p>Tarefa 8 Juros compostos</p>	<p>Modelos Matemáticos nas finanças</p> <p>Matemática na poupança e no crédito - juros compostos por capitalizações</p>	<ul style="list-style-type: none"> • Calcular juros compostos (com diferentes períodos de capitalização dos juros) 	<p>Trabalho a pares, com discussão final em turma</p>	<ul style="list-style-type: none"> • Resolução de problemas, modelação e conexões • Recurso sistemático à tecnologia 	<ul style="list-style-type: none"> • É confiante, resiliente e persistente, construindo caminho personalizado de aprendizagem de médio e longo prazo, com base nas suas vivências (F) • Trabalha com recurso a materiais, instrumentos, ferramentas, máquinas e equipamentos tecnológicos, relacionando conhecimentos técnicos e científicos (I)
3	<p>Tarefa 9 Crédito automóvel</p> <p>ou</p> <p>Tarefa 10 Uma viagem de sonho</p>	<p>Modelos Matemáticos nas finanças</p> <p>Matemática na poupança e no crédito - crédito</p>	<ul style="list-style-type: none"> • Calcular juros simples e compostos (com diferentes períodos de capitalização dos juros) 	<p>Trabalho de grupo</p>	<ul style="list-style-type: none"> • Resolução de problemas, modelação e conexões • Práticas enriquecedoras e criatividade • Organização dos trabalhos dos alunos 	<ul style="list-style-type: none"> • Usa critérios para apreciar ideias, processos ou produtos, construindo argumentos para a fundamentação das tomadas de posição (D) • Trabalha em equipa e aprende a considerar diversas perspetivas e a construir consensos (E) • É confiante, resiliente e persistente, construindo caminho personalizado de aprendizagem de médio e longo prazo, com base nas suas vivências (F) • Trabalha com recurso a materiais, instrumentos, ferramentas, máquinas e equipamentos tecnológicos, relacionando conhecimentos técnicos e científicos (I)nb

Tarefa 1

Eleições Presidenciais na Turquia

Notas pedagógicas para a ação do professor

Resumo:

A tarefa visa introduzir o tema das eleições, dar a conhecer processos eleitorais por maioria simples e por maioria absoluta e promover a compreensão e a interpretação desses processos.

Conhecimentos prévios dos alunos: Percentagens e operações com números racionais.

Materiais e recursos: Calculadora.

Notas e sugestões:

No início da aula, o professor poderá introduzir o tema das eleições com uma breve abordagem histórica sobre as eleições em Portugal. Para o efeito, sugere-se a visualização de um destes vídeos:

- [Eleições que contam, após cinco décadas de ditadura - RTP Ensina](#)
- [Voto - Uma Arma do Povo | As primeiras eleições livres em Portugal](#)

Num primeiro momento, o professor deve distribuir o enunciado da tarefa com a informação complementar e organizar os alunos em pares. De seguida, os alunos devem resolver a tarefa enquanto o professor acompanha o trabalho desenvolvido colocando questões orientadoras para ajudar no cumprimento dos objetivos.

No final, deve ser feita uma discussão com toda a turma e uma síntese dos conceitos envolvidos.

Os alunos poderão manifestar dificuldades na interpretação do enunciado da tarefa, nos conceitos envolvidos e/ou no cálculo de percentagens.



Tarefa 1

Eleições Presidenciais na Turquia

No dia a dia, somos confrontados com notícias ou conversas cujo assunto está relacionado com eleições. Para eleger representantes, por vezes aplicam-se os métodos de maioria simples ou maioria absoluta. Sabes como se aplicam e o que os distingue?

Vê os seguintes vídeos e no final, em debate com os teus colegas, sintetiza o que entendeste sobre estes dois métodos eleitorais.

- [Maioria simples](#)
- [Maioria absoluta](#)

Eleições Presidenciais na Turquia em 2023

A primeira eleição direta para a presidência turca ocorreu em 2014, após o referendo de 2007 que aboliu o sistema anterior no qual o presidente era eleito pela Grande Assembleia Nacional. O mandato é de cinco anos, havendo o limite de dois mandatos consecutivos.

O presidente da Turquia é eleito pelo voto popular direto e por **maioria absoluta**. A 1.ª volta das eleições de 2023 ocorreu a 14 de maio e a segunda volta a 28 de maio entre Erdoğan e Kılıçdaroğlu, tendo sido reeleito Erdoğan. O quadro seguinte apresenta os resultados oficiais finais registados nas Eleições Presidenciais turcas de 2023:

Candidato	Partido	1.ª volta		2.ª volta	
		Votos	%	Votos	%
Recep Tayyip Erdoğan	AKP	27 088 360	49,50	27 699 404	52,15
Kemal Kılıçdaroğlu	CHP	24 568 196	44,89	25 416 221	47,85
Sinan Oğan	Ind	2 829 634	5,17		
Muharrem İnce	MP	238 690	0,44		
Votos válidos		54 724 880	100		
Votos em branco/nulos		1 036 565	1,86		
Participação		55 761 445	86,87		
Abstenções					
Eleitores aptos		64 190 151	100	64 190 151	100

Fonte: [Anadolu](#)

Fonte:

https://pt.wikipedia.org/wiki/Elei%C3%A7%C3%A3o_presidencial_na_Turquia_em_2023#Segundo_tur no



1. Determina a percentagem de votos válidos nestas eleições. Explica a tua resposta.
2. Calcula a percentagem de votos obtidos por cada um dos três candidatos mais votados na 1.ª volta das Eleições Presidenciais e confirma-os com os resultados da tabela. Explica como chegaste à resposta.
3. Determina a percentagem de abstenção na 1.ª volta das Eleições Presidenciais.
4. Se o método usado fosse o de maioria simples, quem teria sido o candidato eleito? Justifica a tua resposta.
5. Tal como é referido no texto, Erdogan não foi eleito presidente na 1.ª volta das Eleições Presidenciais. Explica porquê.
6. Supondo que na 1.ª volta das Eleições Presidenciais não tinha havido votos brancos/nulos, propõe uma distribuição desses votos de modo que um dos dois candidatos mais votados ganhasse as eleições por maioria absoluta. (Apresenta os resultados arredondados às centésimas).



Tarefa 1

Eleições Presidenciais na Turquia

Informação Complementar

Votos brancos	Votos que não contenham qualquer marca ou sinal.
Votos nulos	São aqueles em cujo boletim de voto: <ul style="list-style-type: none">- Tenha sido assinalado mais do que uma opção;- Haja dúvidas sobre qual a opção assinalada;- Tenha sido assinalada a opção correspondente a uma candidatura que tenha sido rejeitada ou desistido das eleições;- Tenha sido feito qualquer corte, desenho ou rasura;- Tenha sido escrita qualquer palavra.
Votos válidos ou validamente expressos	Votos efetivados pelos eleitores não sendo considerados os votos nulos e brancos.
Maioria simples ou relativa	É eleita a opção com maior número de votos válidos ou validamente expressos.
Maioria absoluta	É eleita a opção que recolhe pelo menos metade do número de todos os votos válidos ou validamente expressos mais um.
Abstenção	A abstenção é a ação que o eleitor realiza numa eleição que consiste em não ir votar.



Tarefa 2

Eleições na Escola Secundária Vale das Amendoeiras: Método de Borda

Notas pedagógicas para a ação do professor

Resumo:

Esta tarefa tem como objetivo identificar o vencedor de um processo eleitoral pelo método de Borda e comparar esse método com os de maioria simples e maioria absoluta.

Conhecimentos prévios dos alunos: Método da maioria simples ou relativa e método da maioria absoluta.

Materiais e recursos: Calculadora.

Notas e sugestões:

Antes da aplicação da tarefa, o professor poderá solicitar uma pesquisa sobre o autor do método de Borda, Jean-Charles Borda.

Num primeiro momento, o professor deve organizar os alunos em pares, distribuir o enunciado da tarefa. De seguida, os alunos devem resolver a tarefa enquanto o professor acompanha o trabalho desenvolvido colocando questões orientadoras para ajudar no cumprimento dos objetivos.

No final, deve ser feita uma discussão com toda a turma e uma síntese dos conceitos envolvidos.

Em algumas turmas, devido às dificuldades dos alunos relativamente à interpretação da aplicação do método, houve necessidade de fazer uma leitura acompanhada/explicação do primeiro exemplo, que se encontra resolvido no final do enunciado da tarefa. Além disso, os alunos poderão manifestar dificuldades na interpretação da tarefa, na compreensão do algoritmo, na comunicação e na expressão de ideias com o vocabulário adequado.



Tarefa 2

Eleições na Escola Secundária Vale das Amendoeiras: Método de Borda

O método de Borda é um **sistema eleitoral preferencial**. Cada eleitor vota em todos os candidatos ou listas por ordem decrescente de preferência.

Pesquisa e regista no caderno a origem e a designação do método de Borda.

Método de Borda

- 1.º Passo:** Cada eleitor vota em todos os candidatos/listas de acordo com a sua preferência;
- 2.º Passo:** São atribuídos pontos aos candidatos/lista, de acordo com a ordem de preferência; Se existirem p candidatos, ao candidato indicado na 1.ª preferência são atribuídos p pontos, ao candidato que consta na 2.ª preferência são atribuídos $p-1$ pontos e ao candidato da 3.ª preferência são atribuídos $p-2$ pontos e, assim sucessivamente, até ao último, ao qual será atribuído apenas 1 ponto. Por exemplo, se existirem três candidatos, atribuem-se três pontos ao candidato escolhido na 1.ª preferência, dois pontos ao escolhido na 2.ª preferência e um ponto ao último.
- 3.º Passo:** É contabilizada a pontuação total de cada candidato/lista, que se obtém a partir da soma dos vários produtos entre os pontos atribuídos à ordem de preferência e o número de votos;
- 4.º Passo:** Ordenam-se as pontuações de cada candidato, vencendo aquele que tiver o maior número de pontos.



1. Na Escola Secundária Vale das Amendoeiras, a Associação de Estudantes decidiu realizar um concerto, a realizar na 2.ª semana de aulas, para comemorar o início do ano letivo. Para isso, resolveu questionar os 380 alunos da escola sobre três possíveis bandas: “Os Bem Dispostos” (BD); “Os Meia Leca” (ML) e os “Crazy Boys” (CB).

Foram distribuídos boletins de voto para os alunos votarem por ordem de preferência e foi aplicado o **método de Borda** para apurar a banda preferida.

Boletim de preferências

Indica a ordem de preferência (1.ª, 2.ª e 3.ª)

Os Bem Dispostos (BD)

Os Meia Leca (ML)

Crazy Boys (CB)

A tabela apresenta os resultados obtidos na votação:


N.º de votos	78	189	113
Preferências			
1.ª	BD	ML	CB
2.ª	CB	BD	ML
3.ª	ML	CB	BD

Determina a banda de música escolhida. Justifica a tua resposta, apresentando todos os cálculos.

2. A Maria, presidente da associação de estudantes, foi contactada pela banda “Todos aos Saltos” (TS) também interessada em atuar nesse evento.

Perante esta situação, a Associação de Estudantes decidiu proceder a outra

eleição, aplicando novamente o método de Borda.



A tabela apresenta os resultados obtidos na nova eleição:

N.º de votos	68	170	94	48
Preferências				
1.ª	BD	TS	CB	ML
2.ª	CB	BD	ML	TS
3.ª	ML	CB	BD	CB
4.ª	TS	ML	TS	BD

- 2.1. A nova banda foi a apurada? Justifica a tua resposta.
- 2.2. Considerando apenas os votos da 1.ª preferência, e aplicando o método de maioria simples, a banda apurada seria a mesma? Justifica a tua resposta.
- 2.3. Considerando novamente apenas os votos da 1.ª preferência, e aplicando o método de maioria absoluta seria apurada alguma banda? Justifica a tua resposta.
- 2.4. Na tua opinião, qual é o método mais justo? Fundamenta a tua resposta e discute-a com os teus colegas.



Tarefa 2

Eleições na Escola Secundária Vale das Amendoeiras: Método de Borda

Exemplo resolvido

1. Na Escola Secundária Vale das Amendoeiras, a Associação de Estudantes decidiu realizar um concerto, a realizar na 2.ª semana de aulas, para comemorar o início do ano letivo. Para isso, resolveu questionar os 380 alunos da escola sobre três possíveis bandas: “Os Bem Dispostos” (BD); “Os Meia Leca” (ML) e os “Crazy Boys” (CB).

Foram distribuídos boletins de voto para os alunos votarem por ordem de preferência e foi aplicado o **método de Borda** para apurar a banda preferida.

Boletim de preferências	
Indica a ordem de preferência (1.ª, 2.ª e 3.ª)	
<input type="checkbox"/>	Os Bem Dispostos (BD)
<input type="checkbox"/>	Os Meia Leca (ML)
<input type="checkbox"/>	Crazy Boys (CB)

A tabela apresenta os resultados obtidos na votação:

N.º de votos	78	189	113
Preferências			
1.ª	BD	ML	CB
2.ª	CB	BD	ML
3.ª	ML	CB	BD

Determina a banda de música escolhida. Justifica a tua resposta, apresentando todos os cálculos.



Resolução:

2.º Passo: Atribuição de pontos

1.ª preferência: 3 pontos

2.ª preferência: 2 pontos

3.ª preferência: 1 ponto

3.º Passo: Pontuação obtida por cada banda de música

BD: $3 \times 78 + 2 \times 189 + 1 \times 113 = 725$ pontos

ML: $3 \times 189 + 2 \times 113 + 1 \times 78 = 871$ pontos

CB: $3 \times 113 + 2 \times 78 + 1 \times 189 = 684$ pontos

4.º Passo:

ML - 871 pontos, BD - 725 pontos e CB - 684 pontos.

A banda apurada é os “Meia Leca”.



Tarefa 3

Eleições Autárquicas: Hondt e Sainte-Laguë

Notas pedagógicas para a ação do professor

Resumo:

Esta tarefa tem como objetivo conhecer e aplicar o método de Hondt e o método de Sainte-Laguë para a distribuição de mandatos.

Conhecimentos prévios dos alunos: Arredondamentos.

Materiais e recursos: Internet, folha de cálculo e calculadora.

Notas e sugestões:

Para introduzir o tema da representação proporcional sugere-se o visionamento do seguinte vídeo:

- [Apuramento dos Resultados Eleitorais](#)

O professor deve organizar os alunos em grupo e distribuir o enunciado da tarefa. Numa primeira fase, os alunos devem resolver as questões 1 e 2 para conhecerem algumas características eleitorais do seu concelho de residência e, de seguida, deve proceder-se à discussão e análise dos dados recolhidos pelos alunos.

Numa segunda fase, propõe-se a análise da Lei Eleitoral dos Órgãos das Autarquias Locais e a realização das questões 3 e 4, com recurso à folha de cálculo.

Durante esta fase de aula, o professor deverá acompanhar o trabalho desenvolvido pelos grupos colocando questões orientadoras quando necessário. Para uma melhor compreensão do método de Sainte-Laguë poderá sugerir-se o visionamento do vídeo:

- [Método de Sainte-Laguë - Matemática Online](#)

No final, deve ser feita uma discussão com toda a turma e uma síntese dos conceitos envolvidos.

Numa fase posterior, e para identificar vantagens e limitações dos dois métodos abordados, propõe-se a realização de um trabalho de grupo cujo guião se encontra no final do enunciado da tarefa.

Os alunos poderão manifestar dificuldades na interpretação do enunciado da tarefa, na utilização da folha de cálculo, na aplicação dos métodos e na comunicação de ideias usando vocabulário adequado.



Tarefa 3

Eleições Autárquicas: Hondt e Sainte-Laguë

Neste subtema, vamos abordar dois dos métodos de representação proporcional: o método de Hondt e o método de Sainte-Laguë.

Começa por visualizar o seguinte vídeo:

- [Apuramento dos Resultados Eleitorais](#)

O método de Hondt é utilizado, em Portugal, para determinar a constituição da Câmara Municipal.

Lê com atenção a informação que se segue:

Composição da Câmara Municipal

Lei 169/99, de 18 de setembro

Artigo 57.º

Composição

1 - É presidente da câmara municipal o primeiro candidato da lista mais votada (...).

2 - **Para além do presidente**, a câmara municipal é composta por:

- Dezasseis vereadores em Lisboa;
- Doze vereadores no Porto;
- Dez vereadores nos municípios com 100000 ou mais eleitores;
- Oito vereadores nos municípios com mais de 50000 e menos de 100000 eleitores;
- Seis vereadores nos municípios com mais de 10000 e até 50000 eleitores;
- Quatro vereadores nos municípios com 10000 ou menos eleitores.

1. Acede ao site [Pordata](#) para pesquisar e registar o número de eleitores do município em que habitas e determina, de acordo com a Lei 169/99, o número de vereadores que compõe a Câmara Municipal onde habitas. (palavra-chave: *eleitores; consultar em Municípios - Eleitores nas eleições para as Autarquias Locais: total, votantes e abstenção*)



2. No [Portal do Eleitor](#), pesquisa e regista, no concelho em que vives, os resultados obtidos pelas cinco forças políticas mais votadas concorrentes às Eleições Autárquicas de 2021.

Lei Eleitoral dos Órgãos das Autarquias Locais

(LEI ORGÂNICA N.º 1/2001, DE 14 DE AGOSTO)

ARTIGO 13.º

Critério de eleição

A conversão de votos em mandatos faz-se de acordo com o método de representação proporcional correspondente à média mais alta de Hondt, obedecendo às seguintes regras:

- a) Apura-se, em separado, o número de votos recebidos por cada lista no círculo eleitoral respetivo;
- b) O número de votos apurados por cada lista é dividido, sucessivamente, por 1, 2, 3, 4, 5, etc., sendo os quocientes alinhados pela ordem decrescente da sua grandeza numa série de tantos termos quantos os mandatos que estiverem em causa;
- c) Os mandatos pertencem às listas a que correspondem os termos da série estabelecida pela regra anterior, recebendo cada uma das listas tantos mandatos quantos os seus termos na série;
- d) No caso de restar um só mandato para distribuir e de os termos seguintes da série serem iguais e de listas diferentes, o mandato cabe à lista que tiver obtido o menor número de votos.

3. Com base na Lei Eleitoral (artigo 13.º) e o vídeo visualizado, elabora uma tabela numa folha de cálculo que te permita determinar a distribuição dos mandatos de vereador pelas diferentes forças políticas, para o concelho em que habitas.



3.1. Constrói uma tabela semelhante à apresentada e completa-a, registrando apenas as cinco forças políticas mais votadas. Apresenta os resultados arredondados às milésimas.

	Forças Políticas				
N.º votos					
Divisores					
1					
2					
3					
4					
5					
6					
7					
8					

3.2. Ordena por ordem decrescente os quocientes obtidos.

3.3. Determina o número de vereadores a atribuir a cada força política.

E se o método utilizado fosse outro?

Método de Sainte-Laguë

A conversão de votos em mandatos faz-se obedecendo às seguintes regras:

- Apura-se, em separado, o número de votos recebidos por cada lista no círculo eleitoral respetivo;
- O número de votos apurados por cada lista é dividido, sucessivamente, por 1, 3, 5, 7, 9, etc., sendo os quocientes alinhados pela ordem decrescente da sua grandeza numa série de tantos termos quantos os mandatos que estiverem em causa;
- Os mandatos pertencem às listas a que correspondem os termos da série estabelecida pela regra anterior, recebendo cada uma das listas tantos mandatos quantos os seus termos na série;
- No caso de restar um só mandato para distribuir e de os termos seguintes da série serem iguais e de listas diferentes, o mandato cabe à lista que tiver obtido o menor número de votos.



Para melhor compreenderes a aplicação do método de Sainte-Laguë, visualiza o vídeo: [Método de Sainte-Laguë - Matemática Online](#).

4. Constrói e completa a tabela seguinte e verifica, aplicando o método de Sainte-Laguë, se os resultados obtidos se mantêm.

	Forças Políticas					
N.º votos						
Divisores						
1						
3						
5						
7						
9						
11						
13						



TRABALHO de GRUPO

Objetivo: Apresentação oral do estudo realizado num concelho à tua escolha aplicando os métodos estudados, e cumprindo as seguintes etapas:

Etapa 1 -

Seleciona um outro concelho (distinto do dos outros grupos) pertencente ao teu distrito;

Etapa 2 -

Em relação ao concelho escolhido, investiga:

- o n.º de eleitores;
- o n.º de vereadores;
- o n.º de votos das cinco forças políticas mais votadas;

Etapa 3 -

Aplica os métodos estudados e compara os resultados obtidos.

Indica as vantagens e limitações dos métodos de Hondt e Sainte-Laguë.

Nota: Para aprofundar as vantagens e limitações de ambos os métodos poderá ser útil visualizar o vídeo [Comparação entre o Método de Hondt e do Método de Sainte-Laguë - Matemática Online](#) .



Tarefa 4

O salário de uma hora de trabalho

Notas pedagógicas para a ação do professor

Resumo:

A tarefa tem como objetivo trabalhar questões relacionadas com os salários: distinguir salário bruto de salário líquido, calcular contribuições obrigatórias para sistemas de segurança social e calcular a retenção na fonte para IRS.

Conhecimentos prévios dos alunos: Percentagens e arredondamentos.

Materiais e recursos: Internet e calculadora.

Notas e sugestões:

O professor deve organizar os alunos em grupo e distribuir o enunciado da tarefa. Para introduzir o tema sugere-se uma discussão à volta dos conceitos: salário (origem da palavra) e impostos, bem como a sua importância.

Num primeiro momento, o professor deve questionar os alunos sobre a diferença entre o salário bruto e o salário líquido e em algumas turmas, devido às dificuldades dos alunos relativamente à compreensão dos conceitos, pode haver necessidade de fazer uma leitura acompanhada/explicação do primeiro exemplo, que se encontra resolvido no final do enunciado da tarefa.

De seguida, os alunos devem resolver a tarefa enquanto o professor acompanha o trabalho desenvolvido colocando questões orientadoras para ajudar a desbloquear eventuais impasses.

No final, deve ser feita uma discussão com toda a turma e uma síntese dos conceitos envolvidos.

Os alunos poderão manifestar dificuldades na interpretação do enunciado da tarefa, na pesquisa de informação e na comunicação de ideias usando o vocabulário adequado. Caso não haja possibilidade de aceder à internet, sugere-se a disponibilização da informação complementar, colocada no final do enunciado da tarefa.



Tarefa 4

O salário de uma hora de trabalho

O termo salário tem uma definição muito antiga. No antigo Império Romano, o trabalho era pago em proteção, abrigo ou em sal. Salário deriva do latim *salarium*, que significa “pagamento de sal” ou “pelo sal”, que era a forma de pagamento que recebiam os soldados do Império Romano devido ao seu valor elevado no mercado daquela época (valia o seu peso em ouro, pois o sal era uma das poucas maneiras para preservar a carne).

Salário é o que conhecemos como a remuneração do trabalhador pelo trabalho que realiza.

1. O Mário auferiu um salário bruto de 1446,11 euros.

O salário bruto, também designado por remuneração mensal, é o salário antes de quaisquer descontos e não inclui o subsídio de refeição. Admite que o salário líquido, valor monetário que o Mário efetivamente recebe, resulta da aplicação da fórmula:

$$SL = SB - SS - RF$$

em que:

- SL é o salário líquido, em euros;
- SB é o salário bruto, em euros;
- SS é a contribuição para a Segurança Social, em euros, que corresponde a 11% do salário bruto;
- RF é a retenção na fonte de IRS, em euros, calculada sobre o salário bruto, com base nos dados publicados, anualmente.

Admite que o Mário trabalha 40 horas semanais.

Responde às seguintes questões relativas ao salário (bruto) do Mário.

- 1.1. O Mário fez a seguinte afirmação: “Pagam-me 8,5€ por hora.”

Justifica se a afirmação do Mário é verdadeira ou falsa, admitindo que a fórmula usada para o cálculo de vencimento (bruto) por hora é a seguinte:

$$S_{bh} = \frac{SB \times 12}{52 \times h_s}$$



onde

- S_{bh} é o salário bruto por hora;
- SB é o salário bruto, em euros;
- h_s é o número (máximo) de horas semanais de trabalho.

- 1.2. Calcula o valor da contribuição obrigatória para a Segurança Social, em euros, a aplicar ao salário bruto do Mário.
 - 1.3. Sabendo que o valor que o Mário retém na fonte mensalmente é 211,13€, qual é a taxa de IRS aplicada (apresenta o valor da taxa arredondada às décimas)?
 - 1.4. Determina o valor do salário líquido do Mário.
2. Em junho de 2021, à hora do café, um grupo de funcionários da empresa *RealLife*, esteve a conversar sobre salários e impostos.
- Na resolução das alíneas seguintes, apresenta todos os resultados arredondados com duas casas decimais.
- 2.1. De acordo com a legislação em vigor, qual é o número máximo de horas de trabalho semanal?
Nota: consulta a legislação (Artigo 203.º) [aqui](#) (consultado em setembro de 2023).
 - 2.2. Determina o salário bruto (vencimento base), **por hora**, do Funcionário A da empresa *RealLife*, de acordo com os dados do Quadro 1, que representa o recibo correspondente ao mês de maio de 2021. Considera que este funcionário trabalha o número máximo de horas semanais previsto na lei portuguesa.

QUADRO 1: DADOS DO RECIBO DE VENCIMENTO DO FUNCIONÁRIO A

Funcionário A	Abonos	Descontos	Total a receber
Vencimento base	773,87€		
Segurança Social		85,13€	
IRS		61,91€	
Subsídio de refeição	132,00€		
Total	905,87€	147,04€	758,83€

Nota: <https://diariodarepublica.pt/dr/detalhe/lei/7-2009-602073> (Artigo 271.º) (consultado em setembro de 2023)



2.3. Calcula de acordo com os dados do recibo de vencimento do Funcionário A:

2.3.1. a taxa de contribuição obrigatória para a Segurança Social;

2.3.2. a taxa de IRS (Imposto sobre Rendimento das Pessoas Singulares) para o trabalhador em causa, considerando que o funcionário é não casado e sem dependentes, residente no continente. Consulta a tabela de retenção de IRS, e indica se o valor calculado corresponde ao valor encontrado na tabela ([consulta aqui](#)). (consultado em setembro de 2023)

2.4. Determina o salário líquido do Funcionário A.



Tarefa 4

O salário de uma hora de trabalho

Exemplo resolvido

1. O Mário auferiu um salário bruto de 1446,11 euros.

O salário bruto, também designado por remuneração mensal, é o salário antes de quaisquer descontos e não inclui o subsídio de refeição. Admite que o salário líquido, valor monetário que o Mário efetivamente recebe, resulta da aplicação da fórmula:

$$SL = SB - SS - RF$$

em que:

- SL é o salário líquido, em euros;
- SB é o salário bruto, em euros;
- SS é a contribuição para a Segurança Social, em euros, que corresponde a 11% do salário bruto;
- RF é a retenção na fonte de IRS, em euros, calculada sobre o salário bruto, com base nos dados publicados, anualmente.

Admite que o Mário trabalha 40 horas semanais.

Responde às seguintes questões relativas ao salário (bruto) do Mário.

- 1.1. O Mário fez a seguinte afirmação: “Pagam-me 8,5€ por hora.”

Justifica se a afirmação do Mário é verdadeira ou falsa, admitindo que a fórmula usada para o cálculo de vencimento (bruto) por hora é a seguinte:

$$S_{bh} = \frac{SB \times 12}{52 \times h_s}$$

onde

- S_{bh} é o salário bruto por hora;
- SB é o salário bruto, em euros;
- h_s é o número (máximo) de horas semanais de trabalho.

Resolução:

$$S_{bh} = \frac{1446,11 \times 12}{52 \times 40} \approx 8,34 \text{ €}$$

A afirmação do Mário é falsa porque recebe aproximadamente 8,34€ por hora.



- 1.2. Calcula o valor da contribuição obrigatória para a Segurança Social, em euros, a aplicar ao salário bruto do Mário.

Resolução:

Valor da contribuição obrigatória para a SS = $1446,11 \times 0,11 \approx 159,07$

O valor da contribuição obrigatória para a Segurança Social, em euros, a aplicar ao salário bruto do Mário, é de aproximadamente 159,07€.

- 1.3. Sabendo que o valor que o Mário retém na fonte mensalmente é 211,13€, qual é a taxa de IRS aplicada (apresenta o valor da taxa arredondada às décimas)?

Resolução:

$$\text{Taxa de IRS} = \frac{211,13}{1446,11} \times 100 \approx 14,6\%$$

O valor que o Mário retém, mensalmente, na fonte, corresponde a uma taxa de IRS de 14,6%.

- 1.4. Determina o valor do salário líquido do Mário.

Resolução:

$$SL = SB - SS - RF$$

$$SL = 1446,11 - 159,07 - 211,13 = 1075,91\text{€}$$

O valor do salário líquido do Mário é de 1075,91€



Tarefa 4

O salário de uma hora de trabalho

Informação complementar

Lei n.º 7/2009, de 12 de fevereiro

SECÇÃO II

SUBSECÇÃO II

Limites da duração do trabalho

Artigo 203.º

Limites máximos do período normal de trabalho

- 1 - O período normal de trabalho não pode exceder oito horas por dia e quarenta horas por semana.
- 2 - O período normal de trabalho diário de trabalhador que preste trabalho exclusivamente em dias de descanso semanal da generalidade dos trabalhadores da empresa ou estabelecimento pode ser aumentado até quatro horas diárias, sem prejuízo do disposto em instrumento de regulamentação colectiva de trabalho.
- 3 - Há tolerância de quinze minutos para transações, operações ou outras tarefas começadas e não acabadas na hora estabelecida para o termo do período normal de trabalho diário, tendo tal tolerância carácter excepcional e devendo o acréscimo de trabalho ser pago ao perfazer quatro horas ou no termo do ano civil.
- 4 - Os limites máximos do período normal de trabalho podem ser reduzidos por instrumento de regulamentação colectiva de trabalho, não podendo daí resultar diminuição da retribuição dos trabalhadores.
- 5 - Constitui contra-ordenação grave a violação do disposto neste artigo.

SECÇÃO II

Determinação do valor da retribuição

Artigo 270.º

Critérios de determinação da retribuição

Na determinação do valor da retribuição deve ter-se em conta a quantidade, natureza e qualidade do trabalho, observando-se o princípio de que, para trabalho igual ou de valor igual, salário igual.

Artigo 271.º

Cálculo do valor da retribuição horária

- 1 - O valor da retribuição horária é calculado segundo a seguinte fórmula:
$$(R_m \times 12) : (52 \times n)$$
- 2 - Para efeito do número anterior, **R_m** é o valor da retribuição mensal e **n** o período normal de trabalho semanal, definido em termos médios em caso de adaptabilidade.

Retirado de: Código do Trabalho

<https://diariodarepublica.pt/dr/detalhe/lei/7-2009-602073>



SECÇÃO II
Rendimentos do trabalho
Artigo 25.º

Rendimentos do trabalho dependente: deduções

1 - Aos rendimentos brutos da categoria A deduzem-se, até à sua concorrência, e por cada titular que os tenha auferido, os seguintes montantes:

a) **(euro) 4 104;** (redação da Lei n.º 82-E/2014, de 31 de dezembro)

b) As indemnizações pagas pelo trabalhador à sua entidade patronal por rescisão unilateral do contrato individual de trabalho sem aviso prévio em resultado de sentença judicial ou de acordo judicialmente homologado ou, nos restantes casos, a indemnização de valor não superior à remuneração de base correspondente ao aviso prévio;

c) As quotizações sindicais, na parte em que não constituam contrapartida de benefícios de saúde, educação, apoio à terceira idade, habitação, seguros ou segurança social e desde que não excedam, em relação a cada sujeito passivo, 1 % do rendimento bruto desta categoria, sendo acrescidas de 50 %.

2 - Se, porém, as contribuições obrigatórias para regimes de proteção social e para subsistemas legais de saúde excederem o limite fixado na alínea a) do número anterior, aquela dedução é pelo montante total dessas contribuições.

3 - (Revogado.)

4 - A dedução prevista na alínea a) do n.º 1 pode ser elevada até 75 % de 12 vezes o valor do IAS desde que a diferença resulte de quotizações para ordens profissionais suportadas pelo próprio sujeito passivo e indispensáveis ao exercício da respetiva atividade desenvolvida exclusivamente por conta de outrem.

5 - (Revogado.)

6 - (Revogado.)

Retirado de: CIRS

Deduções específicas ([consulta aqui](#))

TABELA DE RETENÇÃO NA FONTE PARA O CONTINENTE - 2021
(NÃO CASADO)

Remuneração Mensal Euros		Número de dependentes					
		0	1	2	3	4	5 ou mais
Até	686,00	0,0%	0,0%	0,0%	0,0%	0,0%	0,0%
Até	718,00	4,0%	0,7%	0,0%	0,0%	0,0%	0,0%
Até	739,00	7,2%	2,7%	0,0%	0,0%	0,0%	0,0%
Até	814,00	8,0%	4,5%	1,0%	0,0%	0,0%	0,0%
Até	922,00	10,2%	6,8%	3,5%	0,0%	0,0%	0,0%
Até	1 005,00	11,4%	8,0%	5,7%	1,4%	0,0%	0,0%
Até	1 065,00	12,2%	8,9%	6,6%	3,3%	0,0%	0,0%



Remuneração Mensal Euros (continuação)		Número de dependentes					
		0	1	2	3	4	5 ou mais
Até	1 143,00	13,2%	10,8%	8,4%	5,1%	2,7%	0,2%
Até	1 225,00	14,2%	11,9%	9,4%	6,1%	3,6%	1,2%
Até	1 321,00	15,3%	12,9%	10,6%	7,1%	4,6%	2,2%
Até	1 424,00	16,3%	13,9%	11,5%	8,1%	6,6%	4,0%
Até	1 562,00	17,3%	14,9%	12,4%	10,1%	7,6%	5,0%
Até	1 711,00	18,7%	16,4%	14,9%	11,5%	9,0%	6,6%
Até	1 870,00	20,1%	18,3%	17,4%	14,6%	12,6%	11,8%
Até	1 977,00	21,1%	19,5%	18,3%	15,6%	14,6%	12,6%
Até	2 090,00	22,1%	20,4%	19,4%	16,5%	15,6%	13,6%
Até	2 218,00	23,0%	21,5%	20,5%	17,6%	16,6%	14,6%
Até	2 367,00	24,0%	22,4%	21,5%	18,6%	17,7%	15,6%
Até	2 535,00	25,0%	24,4%	22,4%	20,6%	18,6%	17,7%
Até	2 767,00	26,0%	25,3%	23,5%	21,6%	19,6%	18,6%
Até	3 104,00	27,2%	26,6%	24,7%	22,7%	20,8%	19,8%
Até	3 534,00	28,8%	28,5%	27,0%	25,4%	24,8%	23,2%
Até	4 118,00	29,9%	29,7%	27,9%	26,4%	25,8%	25,2%
Até	4 650,00	31,7%	31,2%	29,6%	27,8%	27,2%	26,7%
Até	5 194,00	32,6%	32,1%	31,6%	29,1%	28,2%	27,6%
Até	5 880,00	33,6%	33,1%	32,5%	30,0%	29,4%	28,6%
Até	6 727,00	35,6%	35,2%	34,4%	32,5%	32,1%	31,8%
Até	7 939,00	36,6%	36,2%	35,8%	34,5%	33,1%	32,7%
Até	9 560,00	38,5%	38,1%	37,7%	36,5%	36,1%	34,7%
Até	11 282,00	39,5%	39,1%	38,7%	37,8%	37,0%	35,7%
Até	18 854,00	40,5%	40,1%	39,7%	38,8%	38,4%	36,7%
Até	20 221,00	41,5%	41,1%	40,7%	39,8%	39,4%	37,6%
Até	22 749,00	42,2%	42,0%	41,7%	40,8%	40,4%	38,8%
Até	25 276,00	43,2%	43,0%	42,6%	41,7%	41,4%	40,0%
Superior a	25 276,00	44,2%	44,0%	43,6%	42,7%	42,3%	41,0%

Retirado de: Tabela de retenção

https://info.portaldasfinancas.gov.pt/pt/apoio_contribuinte/tabela_ret_doclib/Pages/default.aspx



IRS - IMPOSTO SOBRE O RENDIMENTO DE PESSOAS SINGULARES

Nos termos do art.º 68.º do Código do IRS (CIRS), as taxas gerais do imposto para 2021 são as constantes da tabela seguinte:

RENDIMENTO COLETÁVEL (euros)	TAXAS	
	NORMAL (A)	PARCELA A ABATER (euros)
Até 7 112	14,50%	—
De mais de 7 112 até 10 732	23,00%	604,52
De mais de 10 732 até 20 322	28,50%	1 194,79
De mais de 20 322 até 25 075	35,00%	2 515,66
De mais a 25 075 até 36 967	37,00%	3 017,27
De mais a 36 967 até 80 882	45,00%	5 974,61
Superior a 80 882	48,00%	8 401,21

Retirado de: Sistema Fiscal Português - Taxas aplicáveis 2021

https://info.portaldasfinancas.gov.pt/pt/apoio_contribuinte/Folhetos_informativos/Documents/SFP

[Taxas_2021.pdf](#)



Tarefa 5

O IRS e a retenção na fonte

Notas pedagógicas para a ação do professor

Resumo:

A tarefa tem por objetivos: compreender a nota demonstrativa de liquidação de IRS, perceber o carácter provisório da taxa de retenção na fonte, calcular o valor da retenção na fonte de IRS e calcular o IRS anual do rendimento coletável.

Conhecimentos prévios dos alunos: Arredondamentos e percentagens.

Materiais e recursos: Internet, calculadora, folha de cálculo.

Notas e sugestões:

Nesta aula, o professor deve organizar os alunos em pequenos grupos.

Após a apresentação da tarefa, o professor deve ajudar na interpretação da nota demonstrativa de liquidação de IRS, propondo uma discussão à volta dos conceitos: rendimento global, deduções específicas, parcela a abater, deduções à coleta e rendimento coletável.

Numa primeira fase, o professor deve ajudar a interpretar a nota demonstrativa de liquidação do imposto apresentada na questão 1 e, de seguida, os alunos devem resolver a tarefa enquanto o professor acompanha o trabalho desenvolvido colocando questões orientadoras de forma a garantir que se cumprem os objetivos. No final, deve ser feita uma discussão com toda a turma e uma síntese dos conceitos envolvidos.

Os alunos poderão manifestar dificuldades no preenchimento da nota de liquidação, no cálculo do imposto apurado e na comunicação de ideias usando o vocabulário adequado.

Devido às dificuldades identificadas durante a implementação da tarefa, sugere-se que sejam trabalhadas situações simplificadas sem que seja necessário recorrer a notas de liquidação de IRS.



Tarefa 5

O IRS e a retenção na fonte

Um funcionário da empresa *RealLife*, analisou no site da DECO PROTESTE, a seguinte nota demonstrativa de liquidação de IRS.

NOTA DEMONSTRATIVA DA LIQUIDAÇÃO DO IMPOSTO

	Descrição	Valores
1	RENDIMENTO GLOBAL	€ 15.170,78
2	Deduções específicas	€ 4.104,00
3	Perdas a recuperar	€ 0,00
4	Abatimento por mínimo de existência	€ 0,00
5	Deduções ao rendimento	€ 0,00
6	RENDIMENTO COLETÁVEL [1-(2+3+4+5)]	€ 11.066,78
7	Quociente rendimentos anos anteriores	€ 0,00
8	Rendimentos isentos englobados para determinação da taxa	€ 0,00
9	TOTAL DO RENDIMENTO PARA DETERMINAÇÃO DA TAXA (6+8-7)	€ 11.066,78
10	Coeficiente familiar 1,00 ; taxa 28,500%	
11	IMPORTÂNCIA APURADA (9 : COEF x TAXA)	€ 3.154,03
12	Parcela a Abater	€ 1.194,79
13	Imposto correspondente a rendimentos anos anteriores	€ 0,00
14	Imposto correspondente a rendimentos isentos	€ 0,00
15	Taxa adicional (0,00 x 0,0% + 0,00 x 0%) x 1,00	€ 0,00
16	Excesso em relação ao limite do quociente familiar	€ 0,00
17	Imposto relativo a tributações autónomas	€ 0,00
18	COLETA TOTAL [(11-12) x (1,00) + 13 - 14 + 15 + 16+17]	€ 1.959,24
19	Deduções à coleta	€ 410,20
20	Benefício municipal (0,00% da coleta)	€ 0,00
21	Acréscimo à coleta	€ 0,00
22	COLETA LÍQUIDA [18 - 19 - 20 (>=0) + 21]	€ 1.549,04
23	Pagamentos por conta	€ 0,00
24	Retenção na fonte	€ 1.621,00
25	IMPOSTOS APURADOS [22 - (23 + 24)]	€ 71,96
26	Juros de retenção-poupança	€ 0,00
27	Sobretaxa-resultado	€ 0,00
28	Juros compensatórios	€ 0,00
29	Juros indemnizatórios	€ 0,00
	VALOR A REEMBOLSAR	€ 71,96

Fonte: <https://www.deco.proteste.pt/dinheiro/impostos/noticias/descodifique-nota-liquidacao-irs>

(consultado em Setembro de 2023)



- De acordo com os dados do recibo de vencimento do Funcionário A, determina o seu rendimento global anual.

Nota: Considera 12 vencimentos base + subsídio de férias + subsídio de Natal.

Dados do recibo de vencimento do Funcionário A

Funcionário A	Abonos	Descontos	Total a receber
Vencimento base	773,87€		
Segurança Social		85,13€	
IRS (retenção na fonte)		61,91€	
Subsídio de refeição	132,00€		
Total	905,87€	147,04€	758,83€

- Sabendo que os rendimentos dos trabalhadores dependentes estão sujeitos a uma dedução específica no valor de 4104€ e de acordo com as taxas de IRS aplicáveis em 2021, que se encontram na tabela abaixo, faz o preenchimento da nota de liquidação do funcionário A, até à coleta total (ponto 18).

Para efeitos de cálculo, considera o funcionário **não casado e sem dependentes**.

Taxas gerais do imposto para 2021

RENDIMENTO COLETÁVEL (euros)	TAXAS	
	NORMAL (A)	PARCELA A ABATER (euros)
Até 7 112	14,50%	—
De mais de 7 112 até 10 732	23,00%	604,52
De mais de 10 732 até 20 322	28,50%	1 194,79
De mais de 20 322 até 25 075	35,00%	2 515,66
De mais a 25 075 até 36 967	37,00%	3 017,27
De mais a 36 967 até 80 882	45,00%	5 974,61
Superior a 80 882	48,00%	8 401,21



NOTA DEMONSTRATIVA DA LIQUIDAÇÃO DE IRS DO FUNCIONÁRIO A

	Descrição	Valores
1	RENDIMENTO GLOBAL	
2	Deduções específicas	
3	Perdas a recuperar	€ 0,00
4	Abatimento por mínimo de existência	€ 0,00
5	Deduções ao rendimento	€ 0,00
6	RENDIMENTO COLETÁVEL [1-(2+3+4+5)]	
7	Quociente rendimentos anos anteriores	€ 0,00
8	Rendimentos isentos englobados para determinação da taxa	€ 0,00
9	TOTAL DO RENDIMENTO PARA DETERMINAÇÃO DA TAXA (6+8-7)	
10	Coeficiente familiar 1,00 ; taxa %	
11	IMPORTÂNCIA APURADA (9 : COEF x TAXA)	
12	Parcela a Abater	
13	Imposto correspondente a rendimentos anos anteriores	€ 0,00
14	Imposto correspondente a rendimentos isentos	€ 0,00
15	Taxa adicional (0,00 x 0,0% + 0,00 x 0%) x 1,00	€ 0,00
16	Excesso em relação ao limite do quociente familiar	€ 0,00
17	Imposto relativo a tributações autónomas	€ 0,00
18	COLETA TOTAL [(11-12) x (1,00) + 13 - 14 + 15 + 16+17]	

- De acordo com os dados do recibo de vencimento, do funcionário A, determina o valor anual de retenções na fonte (IRS).
- Calcula o valor da coleta líquida e o imposto apurado, considerando que o funcionário A não apresentou deduções à coleta no IRS (ponto 19).

18	COLETA TOTAL [(11-12) x (1,00) + 13 - 14 + 15 + 16+17]	
19	Deduções à coleta	
20	Benefício municipal (0,00% da coleta)	€ 0,00
21	Acréscimo à coleta	€ 0,00
22	COLETA LÍQUIDA [18 - 19 - 20 (>=0) + 21]	
23	Pagamentos por conta	€ 0,00
24	Retenção na fonte	
25	IMPOSTOS APURADOS [22 - (23 + 24)]	
26	Juros de retenção-poupança	€ 0,00
27	Sobretaxa-resultado	€ 0,00
28	Juros compensatórios	€ 0,00
29	Juros indemnizatórios	€ 0,00
VALOR A PAGAR/REEMBOLSAR		



5. A partir do valor obtido no imposto apurado, conclui se o funcionário A, será reembolsado ou terá de pagar IRS.
6. Supõe agora, que o funcionário A, apresentou deduções à coleta no valor de 750€ (ponto 19). Calcula a coleta líquida e o imposto apurado.

18	COLETA TOTAL $[(11-12) \times (1,00) + 13 - 14 + 15 + 16+17]$	
19	Deduções à coleta	
20	Benefício municipal (0,00% da coleta)	€ 0,00
21	Acréscimo à coleta	€ 0,00
22	COLETA LÍQUIDA $[18 - 19 - 20 (>=0) + 21]$	
23	Pagamentos por conta	€ 0,00
24	Retenção na fonte	
25	IMPOSTOS APURADOS $[22 - (23 + 24)]$	
26	Juros de retenção-poupança	€ 0,00
27	Sobretaxa-resultado	€ 0,00
28	Juros compensatórios	€ 0,00
29	Juros indemnizatórios	€ 0,00
VALOR A PAGAR/REEMBOLSAR		

7. Qual é o efeito, no imposto apurado, da apresentação de deduções à coleta (nas condições das alíneas anteriores)?



Tarefa 6

Emprestar ou não emprestar: Juros simples

Notas pedagógicas para a ação do professor

Resumo:

Com esta tarefa pretende-se desenvolver a capacidade para analisar propostas de investimento a partir de simulações de cálculo de juros simples, tendo em vista a rentabilidade de uma poupança. Pretende-se, também, trabalhar o pensamento computacional, recorrendo à linguagem Python.

Conhecimentos prévios dos alunos: Arredondamentos e percentagens.

Materiais e recursos: Internet, folha de cálculo e calculadora.

Notas para professor:

O professor deve organizar os alunos em pequenos grupos e distribuir o enunciado da tarefa.

Sugere-se que os alunos pesquisem o significado de poupança e o discutam com os seus colegas. O professor, mediante os contributos dos alunos, deve promover uma discussão em grande grupo sobre esse tema.

De seguida, o professor deve dialogar com os alunos sobre o que são juros simples, solicitando-lhes que acedam ao site “Todos Contam”, para perceberem melhor esse conceito. Em algumas turmas, devido às dificuldades dos alunos relativamente à compreensão dos conceitos, pode haver necessidade de fazer uma leitura acompanhada do primeiro exemplo, que se encontra resolvido no final da tarefa. Tendo por base o exemplo, o professor deve discutir com os alunos as várias maneiras de determinar o valor dos juros e o valor do capital acumulado, bem como calcular o tempo necessário de um depósito, de modo a obter um certo valor pretendido.

Na questão 2.3. deve discutir com os alunos de modo que estes interpretem, em linguagem corrente, e percebam os diversos passos descritos no programa em Python, para que depois, de forma autónoma, resolvam as restantes questões. Os alunos deverão resolver as questões em grupo e durante esta fase de aula, o professor deverá circular pela sala de modo a acompanhar o trabalho que está a ser desenvolvido, assim como colocar questões orientadoras que permitam a boa



execução da tarefa. No final da realização da tarefa, o professor deve fomentar a discussão a partir da participação de todos os alunos, que explicarão as suas resoluções.

Podem surgir dificuldades na interpretação das linhas de comando do programa Python e em acessar à plataforma Colab.



Tarefa 6

Emprestar ou não emprestar: Juros simples

Antes de começares a resolver a tarefa, pesquisa e discute com os teus colegas, o significado de poupança.

Quando o cliente aplica dinheiro num depósito bancário ele está a “emprestar” o seu dinheiro ao banco para que este o aplique da forma que julgar conveniente. Em troca, o banco “paga-lhe” por usar o seu dinheiro. A este valor chama-se juro. Os juros são o montante de dinheiro que é pago para além do capital inicialmente investido.

A maior parte das operações financeiras estão sujeitas a juros.

Juro simples

O juro simples corresponde ao valor pago pelo banco pela aplicação de um montante de capital num depósito durante um determinado período de tempo. Para calcular um juro simples basta multiplicar o capital pela taxa de juro em vigor nesse mesmo período.

[Juro simples e juro composto | Todos Contam](#) (acedido em setembro 2023)

1. A Eunice tem 500 € e pretende depositá-los num banco com uma taxa de 2 % na modalidade de juro simples.
 - 1.1. Qual é o valor do juro?
 - 1.2. Quanto terá a Eunice ao fim de 1 ano? E de 2 anos? E de 5 anos?
 - 1.3. A Eunice pretende comprar um telemóvel novo, que custa 650 €. Quanto tempo teria que esperar para conseguir este valor, atendendo ao capital de 500€ que aplicou na instituição financeira?
2. Numa aula de matemática, a professora coloca como exercício o cálculo de juros simples de um depósito, a cinco anos, de € 1000, com uma taxa anual de 5%.
 - 2.1. Determina:
 - 2.1.1. o valor do juro no final do primeiro ano;
 - 2.1.2. o capital acumulado ao fim do primeiro ano.



- 2.2. Determina o valor do juro e o capital acumulado no final dos cinco anos.
- 2.3. Descreve em linguagem corrente os diversos passos descritos no seguinte programa em Python.

Programa em Python
<pre>capital=1000 taxa=0.05 tempo=5 capitalacum=capital*(1+taxa)**tempo print("O capital acumulado é: ", capitalacum)</pre>

- 2.4. Copia o programa acima para a plataforma [Colab](#) ou acede [aqui](#), para comprovar os resultados obtidos em 2.2.
3. Calcula o valor do juro e do capital acumulado para um capital inicial de 550 euros, com uma taxa anual de 2 %, durante 3 anos.
Confirma os resultados adaptando o programa que utilizaste anteriormente.
4. Durante quantos anos deveremos investir um capital de € 1200, na modalidade de juro simples, com uma taxa anual de 1,8 %, de modo a obter um capital acumulado de € 1675,20?



Tarefa 6

Emprestar ou não emprestar: Juros simples

Exemplo resolvido

1. A Eunice tem 500 € e pretende depositá-los num banco com uma taxa de 2 % na modalidade de juro simples.

1.1. Qual é o valor do juro?

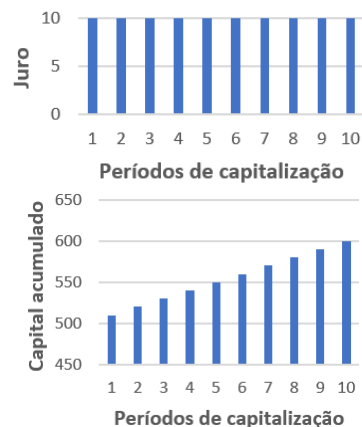
Resolução:

Capital inicial:

$$C_0 = 500 \quad \text{Taxa e juro } i = 2\% = 0,02$$

Valor do Juro:

$$j = 500 \times 0,02 = 10 \text{ €}$$



- 1.2. Quanto terá a Eunice ao fim de 1 ano? E de 2 anos? E de 5 anos?

Resolução:

- Ao fim de 1 ano: $C_1 = C_0 + j = 500 + 10 = 510$
- Ao fim de 2 anos: $C_2 = C_1 + j = 500 + 10 + 10 = 520$
- Ao fim de 3 anos: $C_3 = C_2 + j = 500 + 10 + 10 + 10 = 530$
- Ao fim de 4 anos: $C_4 = C_3 + j = 500 + 10 + 10 + 10 + 10 = 540$
- Ao fim de 5 anos: $C_5 = C_4 + j = 500 + 10 + 10 + 10 + 10 + 10 = 550$

A Eunice terá 510 €, 520 € e 550 €, respetivamente, ao fim de um ano, dois anos e cinco anos.

Em conclusão: O capital acumulado é a soma do capital inicial com o total de juros obtidos no período de tempo considerado.

Capital acumulado (juro simples)

$$C_n = C_0 + C_0 \times i \times n \quad \text{ou} \quad C_n = C_0 + juro \times n$$

C_n : capital acumulado ao fim de n períodos de capitalização

C_0 : capital inicial

i : taxa de juro, em número decimal (na forma de dízima), no período de capitalização

n : número de períodos de capitalização

Nota: Nesta tarefa os períodos de capitalização são referentes a anos.



- 1.3. A Eunice pretende comprar um telemóvel novo, que custa 650 €. Quanto tempo teria que esperar para conseguir este valor, atendendo ao capital de 500€ que aplicou na instituição financeira?

Resolução:

$$\text{Capital inicial: } C_0 = 500$$

$$\text{Taxa de juro: } i = 2\% = 0,02$$

$$C_n = C_0 + C_0 \times i \times n$$

$$650 = 500 + 10 \times n$$

$$\Leftrightarrow 650 - 500 = 10 n$$

$$\Leftrightarrow 10 n = 150$$

$$\Leftrightarrow n = \frac{150}{10}$$

$$\Leftrightarrow n = 15$$

A Eunice teria de esperar 15 anos para conseguir ter 650 €.



Tarefa 7

Crédito: juros e mais juros

Notas pedagógicas para a ação do professor

Resumo:

Esta tarefa tem como propósito a compreensão do conceito de juro composto, mediante a análise e comparação das condições de duas propostas de investimento. Pretende-se, também, trabalhar o pensamento computacional, recorrendo à linguagem Python.

Conhecimentos prévios dos alunos: Juro simples.

Materiais e recursos: Internet, folha de cálculo e calculadora.

Notas e sugestões:

O professor deve organizar os alunos em grupos e distribuir o enunciado da tarefa. Sugere-se que o professor, numa primeira fase, promova uma discussão em torno dos juros simples e faça a ponte e a comparação entre estes e os juros compostos, sugerindo que os alunos acessem ao site “Todos Contam”.

Pretende-se que os alunos determinem o valor do juro e o valor do capital acumulado, de modo a compararem o capital obtido com juros compostos e com juros simples e assim perceberem quais são os mais vantajosos.

Em algumas turmas, devido às dificuldades dos alunos relativamente à compreensão dos conceitos, pode haver necessidade de fazer uma leitura acompanhada/explicação do primeiro exemplo, que se encontra resolvido no final da tarefa.

Na questão 2.3. o professor deve discutir com os alunos os diversos passos descritos no programa em Python, para que consigam realizar de forma autónoma as questões seguintes.

Os alunos deverão resolver as questões em grupo. No final da realização da tarefa, o professor deve fomentar a discussão, tendo por base as resoluções realizadas pelos alunos nos trabalhos em grupo.

Podem surgir dificuldades na interpretação das linhas de comando do programa Python e em aceder à plataforma Colab.



Tarefa 7

Crédito: juros e mais juros

Juro composto

O juro composto corresponde a considerar-se a capitalização dos juros simples que vão sendo vencidos pelo depósito. No juro composto, o juro devido, em cada período, é adicionado ao capital inicial, constituindo um novo capital.

Capitalização significa, portanto, a incorporação do juro simples no capital, obtendo-se um novo capital (maior que o inicial), o qual vai ser também ele remunerado, ou seja, o valor do juro é adicionado ao montante em depósito, no final de cada ano, e o juro é sucessivamente calculado sobre o total do montante existente na conta.

Desta forma, num depósito com juro composto são obtidos juros sobre juros e um capital crescente ao longo do tempo. Enquanto o juro simples cresce proporcionalmente com o tempo, o juro composto cresce mais do que proporcionalmente com o tempo.

[Juro simples e juro composto | Todos Contam](#) (acedido em setembro 2023)

Capital acumulado (juro composto)

$$C_n = C_0 \times (1 + i)^n$$

C_n : capital acumulado ao fim de n períodos de capitalização

C_0 : capital inicial

i : taxa de juro, em número decimal (na forma de dízima), no período de capitalização

n : número de períodos de capitalização

Nota: Nesta tarefa os períodos de capitalização são referentes a anos.

Valor do juro composto

$$j = C_n - C_0$$

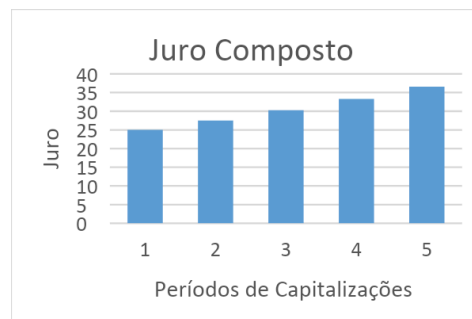
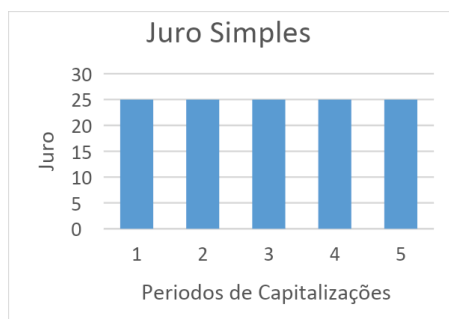
j : valor do juro, referente ao período de capitalização

1. A Sara decidiu investir numa conta poupança os 250€ que recebeu no seu aniversário. Deslocou-se a duas instituições bancárias diferentes:
 - O **Banco Poupa Aqui** apresentou a seguinte proposta:
 - Depósito a prazo a cinco anos, com uma remuneração anual a um **juro simples** de 10%.



- O **Banco Rende Mais** apresentou a seguinte proposta de **juro composto**:
 - Depósito a prazo a cinco anos
 - No final de cada ano o banco oferece os mesmos 10% sobre o investimento inicial, mas estes 10% acumulam ao dinheiro que lá está e no ano seguinte, os 10% serão calculados a partir do que **acumulou no ano anterior**.

- 1.1. Determina o capital acumulado ao fim dos 5 anos no **Banco Poupa Aqui**.
- 1.2. Determina o juro e o capital acumulado no **Banco Rende Mais**, ao fim de 1 ano. E ao fim de 2 anos. E ao fim dos 5 anos.
- 1.3. Compara, a partir das representações gráficas, os juros obtidos pela Sara nas duas instituições bancárias.



2. Numa aula de matemática, o professor coloca como exercício o cálculo de juros compostos de um depósito de € 1000, a cinco anos, , com uma taxa anual fixa de 5%.
 - 2.1. Determina o valor do:
 - 2.1.1. juro e do capital acumulado no final do primeiro ano;
 - 2.1.2. juro e do capital acumulado no final do segundo ano;
 - 2.1.3. juro e do capital acumulado no final do terceiro ano.
 - 2.2. Com recurso a uma folha de cálculo, determina o valor do juro e do capital acumulado no final dos cinco anos. E ao fim de dez anos.



- 2.3. Recorre ao programa em Python e altera-o de modo a obter o capital acumulado na modalidade de juro composto ao fim de cinco anos.
(Atenção: a simbologia para potência é **)

Programa em Python
<pre>capital=1000 taxa=0.05 tempo=5 capitalacum=capital*(1+taxa)**tempo print("O capital acumulado é: ", capitalacum)</pre>

- 2.4. Copia o programa que construístes para a plataforma [Colab](#), acede [aqui](#) ou copia para a calculadora gráfica de forma a comprovar o resultado obtido em 1.2 do valor do capital acumulado ao fim de cinco anos.
3. Executa o programa, considerando (ci - capital inicial em €, j - taxa de juro anual em percentagem, n - período de capitalização em anos), para:
- 3.1. ci=20000, j=5%, n=1
 - 3.2. ci=5000, j=2%, n=15



Tarefa 7

Crédito: juros e mais juros

Exemplo resolvido

1. A Sara decidiu investir numa conta poupança os 250€ que recebeu no seu aniversário. Deslocou-se a duas instituições bancárias diferentes:
 - O **Banco Poupa Aqui** apresentou a seguinte proposta:
 - Depósito a prazo a cinco anos, com uma remuneração anual a um **juro simples** de 10%.
 - O **Banco Rende Mais** apresentou a seguinte proposta de **juro composto**:
 - Depósito a prazo a cinco anos
 - No final de cada ano o banco oferece os mesmos 10% sobre o investimento inicial, mas estes 10% acumulam ao dinheiro que lá está e no ano seguinte, os 10% serão calculados a partir do que **acumulou no ano anterior**.
 - 1.1. Determina o capital acumulado ao fim dos 5 anos no **Banco Poupa Aqui**.

Resolução:

$$\text{Capital acumulado} = 250 + 250 \times 0,1 \times 5 = 375\text{€}$$

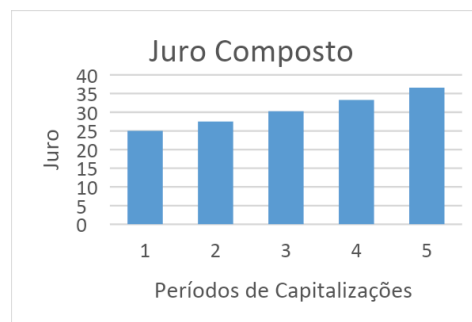
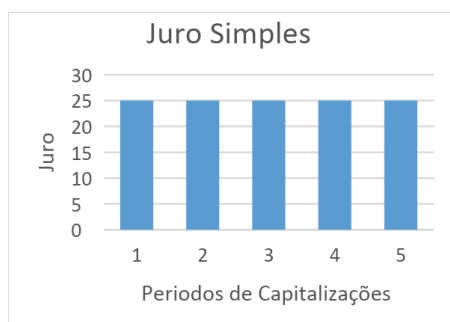
- 1.2. Determina o juro e o capital acumulado no **Banco Rende Mais**, ao fim de 1 ano. E ao fim de 2 anos. E ao fim dos 5 anos.

Resolução:

Ano	Capital	Juros	Capital acumulado
1	250	$250 \times 0,1 = 25$	$250 + 25 = 275$
2	275	$275 \times 0,1 = 27,5$	$275 + 27,5 = 302,50$
3	302,50	$302,50 \times 0,1 = 30,25$	$302,50 + 30,25 = 332,75$
4	332,75	$332,75 \times 0,1 = 33,275$	$332,75 + 33,275 = 366,025$
5	366,025	$366,025 \times 0,1 = 36,6025$	$366,025 + 36,6025 = 402,6275$



1.3. Compara, a partir das representações gráficas, os juros obtidos pela Sara nas duas instituições bancárias.



Resolução:

Repare-se que com os juros compostos o montante está sempre a aumentar, enquanto que com os juros simples esse montante é sempre constante ao longo dos anos.



Tarefa 8

Juros Compostos

Notas pedagógicas para a ação do professor

Resumo:

A tarefa tem por objetivo levar os alunos a calcularem o valor dos juros compostos e do capital acumulado com diferentes capitalizações, com recurso à tecnologia.

Conhecimentos prévios dos alunos: Juros compostos.

Materiais e recursos: Internet, telemóvel, folha de cálculo ou calculadora gráfica.

Notas e sugestões:

Sugere-se a visualização do vídeo “[Isto é Matemática T01E10 Juras&Juros](#)”.

O professor deve discutir com os alunos o modo de calcular o capital acumulado em regime de juros compostos para diferentes capitalizações, bem como a forma de utilizar a tecnologia para efetuar esses cálculos.

Em algumas turmas, devido às dificuldades dos alunos relativamente à compreensão dos conceitos, pode haver necessidade de fazer uma leitura acompanhada/explicação do primeiro exemplo, que se encontra resolvido no final da tarefa.

Os alunos devem resolver a tarefa em grupo, o mais possível autonomamente, pelo que no final é indispensável uma discussão em grande grupo, de modo a comparar as resoluções dos alunos, bem como os valores dos capitais acumulados usando vários períodos de capitalização.

Podem surgir dificuldades na interpretação do enunciado, pelo que poderá ser necessária alguma orientação da parte do professor. A utilização da folha de cálculo poderá aumentar o tempo de resolução e de dificuldade, pois prevêem-se constrangimentos no seu uso e na própria construção das fórmulas.

Sugere-se a resolução de exercícios complementares.



Tarefa 8

Juros Compostos

Visualiza o vídeo “[Isto é Matemática T01E10 Juras&Juros](#)”.

$$C_n = C_0 \times \left(1 + \frac{i}{k}\right)^{kn}$$

C_n : Capital acumulado ao fim de n anos de capitalização

C_0 : Capital inicial

i : taxa de juro anual, em número decimal (na forma de dízima)

k : número de períodos de capitalização no ano

n : número de anos de capitalização

1. A Verónica quer depositar 1500 € numa conta a prazo num banco, que oferece uma taxa de juro de 10%, na modalidade de juro simples, durante 5 anos.
 - 1.1. Quanto terá a Verónica conseguido acumular, no final dos 5 anos?
 - 1.2. Outra instituição bancária também propõe à Verónica uma taxa de juro anual de 10% durante 5 anos, mas na modalidade de juro composto com capitalização anual. Qual será agora o valor do capital acumulado pela Verónica?
 - 1.3. E se em vez de acumular 10% do capital investido ao final de um ano, o banco propuser à Verónica um juro acumulado anual de 10%, com capitalizações de 6 em 6 meses?



2. O João encontra-se a frequentar o 10.º ano, em 2023/24, e pretende prosseguir os estudos. O avô ofereceu-lhe **5000 euros** para ajudar nas despesas quando ingressar no Ensino Superior. Com a ajuda do seu pai, fez uma pesquisa no mercado para encontrar a melhor forma de aplicar o presente do avô, e descobriu que o banco CONFIANÇA estava a oferecer uma aplicação com taxa de juro jovem acumulado anual de 1,9%, com capitalizações de 3 em 3 meses.



- 2.1. Qual é o capital acumulado ao fim de um ano? (Em caso de arredondamento, considerar duas casas decimais.)
Sugestão: Para resolver a questão podes recorrer a uma folha de cálculo.
- 2.2. Qual será o valor do capital acumulado que o João terá para iniciar os estudos, quando terminar o 12.º Ano (ao fim dos três anos)?
Sugestão: Para resolver a questão podes recorrer a uma folha de cálculo.
- 2.3. Compara o valor obtido em 2.1. com o que o João obteria caso tivesse optado por:
- 2.3.1. juro simples, com a mesma taxa anual;
- 2.3.2. juro composto, com a mesma taxa anual, com o juro a render anualmente.

3. O irmão do João descobriu que outro banco, Banco SEGURO estava a oferecer uma aplicação com uma taxa de juro composto anual de **2,1 %**, com capitalizações semestrais, no entanto, o capital máximo a investir é **€ 4500**.
- 3.1. O João vai precisar do dinheiro ao fim de três anos, qual das aplicações deveria escolher, de entre os dois bancos? Justifica a tua resposta.
- 3.2. O João decide investir durante 10 anos. Deverá continuar a escolher a mesma aplicação? Justifica a tua resposta.
- 3.3. Determina o tempo mínimo de investimento necessário para que a aplicação encontrada pelo irmão do João seja mais vantajosa.
Sugestão: Para resolver a questão podes recorrer a uma folha de cálculo ou à calculadora gráfica.

(Adaptado de trabalhos da formação “Capacitação para as Aprendizagens Essenciais de Matemática A para o Ensino Secundário”)



Tarefa 8

Juros Compostos

Exemplo resolvido

1. A Verónica quer depositar 1500 € numa conta a prazo num banco, que oferece uma taxa de juro de 10%, na modalidade de juro simples, durante 5 anos.

- 1.1. Quanto terá a Verónica conseguido acumular, no final dos 5 anos?

Resolução:

$$C_n = C_0 + C_0 \times i \times n$$

$$C_5 = 1500 + 1500 \times 0,1 \times 5 = 2250$$

No final dos 5 anos teria acumulado 2250€.

- 1.2. Outra instituição bancária também propõe à Verónica uma taxa de juro anual de 10% durante 5 anos, mas na modalidade de juro composto com capitalização anual. Qual será agora o valor do capital acumulado pela Verónica?

Resolução:

$$C_n = C_0 \times (1 + i)^n$$

$$C_5 = 1500 \times (1 + 0,10)^5 = 2415,77$$

Nesta modalidade, no final dos 5 anos teria acumulado 2415,77€.

- 1.3. E se em vez de acumular 10% do capital investido ao final de um ano, o banco propuser à Verónica um juro acumulado anual de 10%, com capitalizações de 6 em 6 meses?

Resolução:

Capital Inicial (€): 1500

Taxa de juro semestral: 5%

Taxa de juro anual: 10%



Com ajuda de uma folha de cálculo, chegamos aos valores seguintes:

Semestre	Juros (€)	Valor acumulado (€)
1	75	1575
2	78,75	1653,75
3	82,6875	1736,4375
4	86,82188	1823,259375
5	91,16297	1914,422344
6	95,72112	2010,143461
7	100,5072	2110,650634
8	105,5325	2216,183166
9	110,8092	2326,992324
10	116,3496	2443,34194

Assim, neste caso, o capital acumulado seria de 2443,34 €.

Nesta modalidade, o capital será superior relativamente ao obtido nas questões anteriores:

- $165,77 \text{ €} (2417,77 \text{ €} - 2250,00 \text{ €} = 165,77 \text{ €})$ juro composto com capitalização anual
- $193,35 \text{ €} (2443,35 \text{ €} - 2250,00 \text{ €} = 193,35 \text{ €})$ juro composto com capitalização semestral



Nota: As tarefas 9 e 10 são sugeridas em alternativa, pois envolvem os mesmos objetivos.

Tarefa 9

Crédito automóvel

Notas pedagógicas para a ação do professor

Resumo:

A tarefa tem por objetivo analisar situações em que é necessário recorrer ao crédito, apelando ao sentido crítico e à capacidade de comunicar matematicamente.

Conhecimentos prévios dos alunos: Juros simples e juros compostos, arredondamentos e percentagens.

Materiais e recursos: Internet e calculadora.

Notas e sugestões:

Os alunos, organizados em pequenos grupos, começam por resolver a parte I da tarefa.

Durante o trabalho autónomo dos alunos, o professor deverá circular pela sala de modo a compreender o trabalho que está a ser desenvolvido pelos alunos, assim como colocar questões orientadoras que permitam a boa execução da tarefa. No final, deve discutir em grande grupo as resoluções dos alunos e as ideias principais que emergem deste primeiro trabalho.

Deve proceder-se de igual modo para a parte II da tarefa. No final da resolução desta parte da tarefa pelos diversos grupos, de forma o mais autónoma possível, deve organizar-se uma discussão em grande grupo. Deve pedir-se aos alunos que expliquem as suas opções e conclusões, promovendo assim não só a comunicação matemática, mas também o desenvolvimento do seu sentido crítico. É importante que os alunos tenham consciência das implicações do recurso ao crédito e em que situações é que este pode ser apropriado.

É natural que surjam dificuldades na interpretação do enunciado e na comunicação das ideias e justificações, pelo que poderá ser necessária alguma orientação do professor.



Tarefa 9

Crédito automóvel

Parte I

A mãe da Nélida pretende efetuar um empréstimo de 10000€ para aquisição de um automóvel novo, por um prazo de 5 anos, com prestação mensal fixa.

Na financeira “CREDI” propuseram a seguinte modalidade de pagamento:

- taxa fixa de 9,5% sobre o valor do empréstimo (independentemente do número de anos);
- pagamento inicial de 500€ para despesas de abertura de conta;
- pagamento do valor fixo mensal de 9,15€ (comissões e impostos incluídos).

1. Qual será o valor da prestação mensal a pagar pela mãe da Nélida (*)?
(*) *entenda-se por prestação mensal, o valor a pagar por mês sem ter em conta as comissões e os impostos.*
2. Qual é o total pago pela mãe da Nélida ao longo dos cinco anos?
3. Qual é a percentagem do montante do empréstimo que foi efetivamente paga, além dos 9,5% referidos, no período de cinco anos?

Parte II

A Nélida, não convencida de que a proposta apresentada pela financeira “CREDI” seria a melhor, decidiu comparar as condições oferecidas pelas duas entidades bancárias - CA (Caixa Agrícola) e CGD (Caixa Geral de Depósitos), e pela instituição financeira - CF (Cofidis).

1. Completa a tabela seguinte recorrendo aos simuladores virtuais disponibilizados pelas entidades bancárias e pela instituição financeira.

[CA](#)



[CGD](#)



[CF](#)



Financiamento	CA	CGD	CF
Valor do empréstimo	10000,00	10000,00	10000,00
Prazo	60 meses	60 meses	60 meses
TAN			
MTIC			
Outras Despesas (*)			
Prestação Fixa			

TAN - Taxa de juros anual nominal

MTIC - Montante total imputado ao consumidor

(*) Considera como “Outras Despesas” o montante que não está incluído no total das prestações

- Qual é o montante recebido por cada uma das entidades bancárias e da instituição financeira?
- Na tua opinião, se pretenderes contrair um crédito, qual deverá ser o “indicador” relevante para fazeres uma boa escolha? Refere-o, fundamentando a tua opinião.
- Com base nas várias simulações feitas, qual das propostas é mais vantajosa para a mãe da Nélida? Explica porquê.

(Adaptado de trabalhos da formação “Capacitação para as Aprendizagens Essenciais de Matemática A para o Ensino Secundário”)



Tarefa 10

Uma Viagem de Sonho

Notas pedagógicas para a ação do professor

Resumo:

A tarefa consiste num pequeno trabalho de projeto e tem por objetivo analisar situações em que é necessário recorrer ao crédito, apelando ao sentido crítico dos alunos e à sua capacidade de comunicar matematicamente.

Conhecimentos prévios dos alunos: Juros simples e juros compostos, arredondamentos e percentagens.

Materiais e recursos: Guião orientador de um relatório escrito ou póster, internet, folha de cálculo ou calculadora gráfica.

Notas e sugestões:

Os alunos, depois de organizados em grupos, devem ler o enunciado com todo o cuidado, devendo o professor prestar esclarecimentos sobre as várias fases do projeto.

Neste projeto pretende-se que os alunos produzam um póster e um relatório. O professor deve incentivar a elaboração do primeiro esquema do póster. Sugere-se que seja disponibilizado um guião para a elaboração do póster.

Os alunos devem planear, em grupo, a organização do trabalho, as formas de o desenvolver, os recursos e as atividades necessárias à realização do projeto. O póster deverá ser ilustrado com imagens, por exemplo, de um arquivo gratuito como o [FREEPIK](#).

Neste pequeno projeto pretende-se produzir um póster e um relatório. O professor deve incentivar a elaboração do primeiro esquema do póster. Sugere-se que seja disponibilizado um guião para a elaboração do póster.

Durante o trabalho autónomo dos alunos, o professor deverá circular pela sala de modo a acompanhar o trabalho que está a ser desenvolvido, assim como colocar questões orientadoras que permitam a boa execução da tarefa.

Na elaboração do relatório escrito é importante que conste uma reflexão sobre as vantagens e desvantagens do recurso ao crédito para viagens, de modo que os



alunos tenham consciência das implicações do recurso ao crédito e em que situações é que este pode ser um recurso.

Os alunos devem apresentar o póster à turma. Devem fazer uma avaliação do trabalho, que deverá integrar algumas considerações finais do projeto, perceber se os objetivos do estudo foram ou não atingidos e se ao longo do processo foram revistas algumas das opções tomadas. Poderá também indicar a existência de limitações ou possíveis investigações futuras.

Ao longo deste processo o professor deve dar feedback frequente e de forma clara, de modo que seja possível reformular e melhorar os trabalhos.

Podem surgir dificuldades na interpretação do enunciado e na comunicação das ideias e justificações, assim como na elaboração do relatório e do póster.



Tarefa 10

Uma Viagem de Sonho

Trabalho de grupo.

Nesta tarefa pretende-se desenvolver um mini projeto no âmbito do Tema de Modelos Matemáticos para a Cidadania – Matemática na poupança e no crédito, que culmine com um relatório escrito e a apresentação de um póster, do planeamento de uma viagem de sonho com recurso ao crédito e recorrendo a simuladores.



1.º Passo: Escolha da viagem

Deves escolher o destino da tua viagem de sonho. O objetivo do mini projeto será a elaboração de um póster que mostre de forma apelativa o plano da tua viagem de sonho, o cálculo das prestações constantes em empréstimos, recorrendo a pelo menos dois simuladores em sites de bancos ou instituições financeiras, e a apresentação de um relatório.

2.º Passo: Plano

Apresentar a planificação do trabalho: as formas de o desenvolver, os recursos e as atividades necessárias à realização do projeto. O póster deverá ser ilustrado com imagens, por exemplo, de um arquivo gratuito como o [FREEPIK](#).

3.º Passo: Pesquisa

Pesquisa toda a informação necessária para planear a tua viagem (transporte, acomodação, pontos de interesse a visitar, alimentação, etc.) e elabora um orçamento para a tua viagem. Deverás recorrer a pelo menos dois simuladores de bancos ou instituições financeiras, com diferentes opções de crédito.

4.º Passo: Produção

Neste mini projeto pretende-se produzir um póster e um relatório. Pode ser feito primeiro o esquema do póster.

5.º Passo: Revisão

Uma etapa essencial do projeto é a de melhorar e de fazer os ajustes necessários. Esta etapa pode ocorrer várias vezes ao longo do projeto.



6.º Passo: Apresentação

No relatório escrito deverá constar uma reflexão sobre as vantagens e desvantagens do recurso ao crédito para viagens, e selecionar de todo o relatório a informação mais relevante a apresentar no pôster.

7.º Passo: Avaliação

A avaliação deverá integrar algumas considerações finais do projeto e perceber se os objetivos do estudo foram ou não atingidos, e permitir que ao longo do processo sejam revistas as opções já tomadas. Poderá também indicar a existência de limitações ou possíveis investigações futuras.

